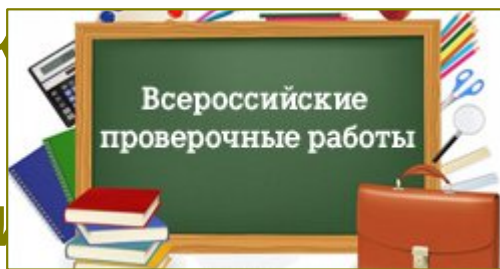


**Готовимся к Всероссийской
проверочной работе
Составитель
учитель начальных классов Крылова
Т.Г
2023-2024 уч год**

Окружающий мир 4 класс

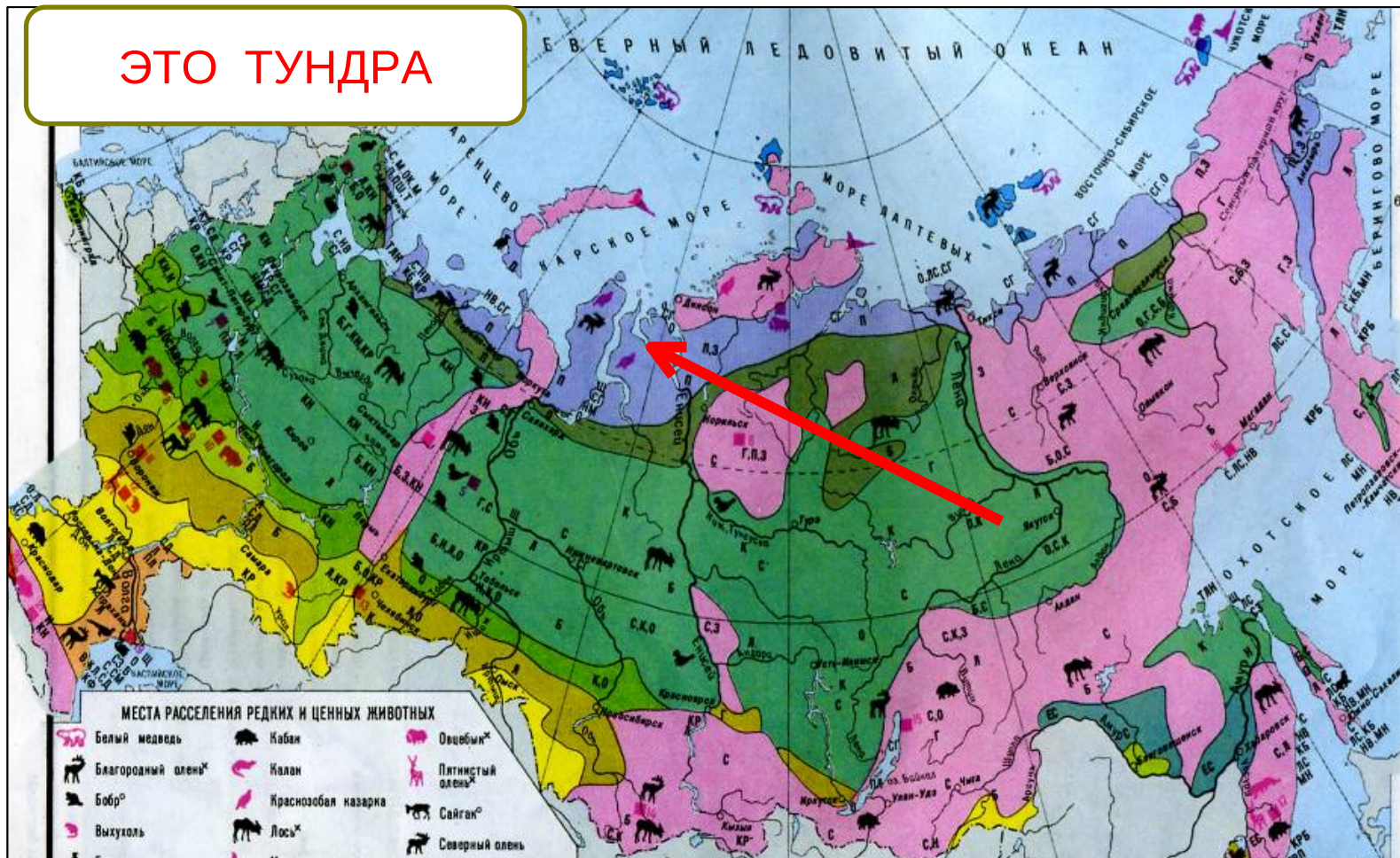
Тренировочные задания

«Природные зоны России»



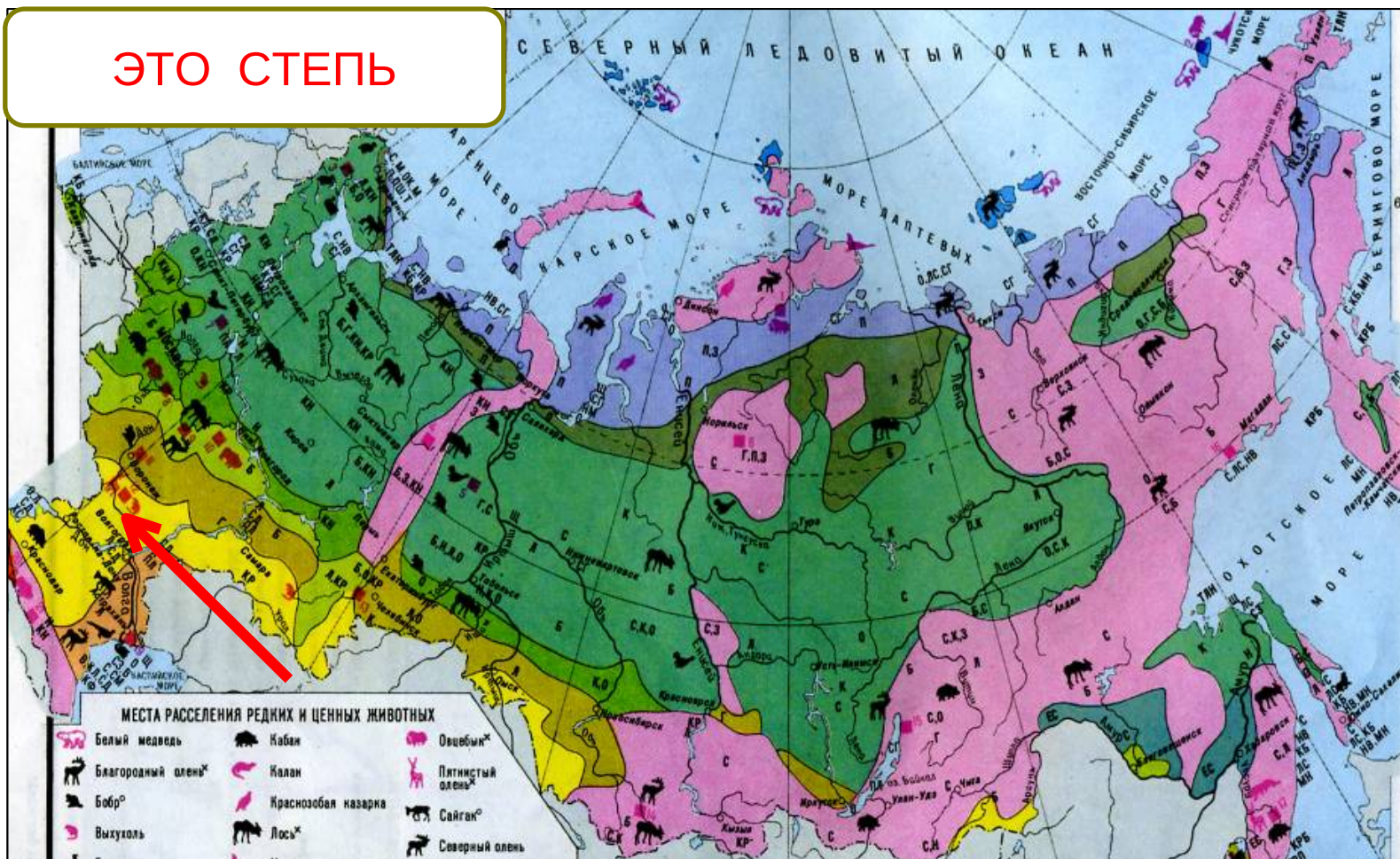
1. Определите по карте природных зон России название зоны, указанной стрелкой

ЭТО ТУНДРА



2. Определите по карте природных зон России название зоны, указанной стрелкой

ЭТО СТЕПЬ



3. Определите по карте природных зон России название зоны, указанной стрелкой

ЭТО АРКТИЧЕСКИЕ
ПУСТЫНИ



4. По тексту определите, о какой природной зоне идёт речь



Зона тундры

Зона лесов

Зона пустынь

Зона степей



5. Заполните таблицу, используя предложенные слова и названия

ЗОНА	РАСТЕНИЯ	ЖИВОТНЫЕ

КАРЛИКОВАЯ
ИВА

БЕЛАЯ
КУРОПАТКА

ВАРАН

ТУНДРА

ВЕРБЛЮЖЬЯ
КОЛЮЧКА

ПУСТЫНЯ

6. Заполните таблицу, используя предложенные слова и названия

ЗОНА	РАСТЕНИЯ	ЖИВОТНЫЕ

СМОРОДИНА

БУРЫЙ
МЕДВЕДЬ

ХОМЯК

ЛЕС

ВАСИЛЁК

СТЕПЬ

7. Заполните таблицу, используя предложенные слова и названия

ЗОНА	РАСТЕНИЯ	ЖИВОТНЫЕ

ТЮЛЬПАН

ХОМЯК

ЛЕММИНГ

СТЕПЬ

КАРЛИКОВАЯ
ИВА

ТУНДРА

8. Если ты захочешь побольше узнать об обитающих в пустынях змеях, то какую из книг ты выберешь?

А. Атлас «Достопримечательности пустыни Сахара»

Б. Роман «Жизнь в ледяной пустыне»

В. Энциклопедия «Пресмыкающиеся степей и пустынь» 

Г. Энциклопедия «Мир зверей степей и пустынь»

9. Северное сияние - это явление, характерное для природной зоны_____.

А. ПУСТЫНЬ

Б. СТЕПЕЙ

В. ЛЕСОВ

✓ Г. АРКТИЧЕСКИХ
ПУСТЫНЬ





10. Определите, к какой природной зоне можно отнести указанную модель цепи питания

КОВЫЛЬ

САЙГАК

ВОЛК



А. ПУСТЫНЬ


В. ЛЕСОВ

Б. СТЕПЕЙ



Г. ТУНДРЫ

11. Определите, какое звено в цепи питания пропущено



А. КОМАР


В. ЛЕММИНГ ✓

Б. СЕВЕРНЫЙ
ОЛЕНЬ

Г. ВОЛК



12. Определите, по каким причинам в тундре много болот и озёр



А. Постоянно идут дожди.

Б. Многолетняя мерзлота не пропускает дождевую и талую воду на глубину.

В. Почва бедна перегноем.

Г. Из – за низкой температуры воздуха вода с поверхности почвы испаряется медленно.



13. Выберите, какие типы лесов встречаются в зоне лесов

А. Смешанные леса

А Б В

Б. Тайга

А Б Г

В. Тропические леса

Б В Г

Г. Широколиственные леса

А В Г

14. Отметьте признаки приспособленности белого медведя к условиям жизни в Арктике

А. Ноги, превратившиеся в ласты.

Б. Густая длинная шерсть.

В. Белый цвет меха.

Г. Широкие лапы.

Д. Мощные клыки, похожие на сабли.



А Б В

А Б Г

Б В Г

В Г Д

15. Определите, в каком ряду названия животных подписаны верно



А. Белая куропатка, лось, северный олень, лемминг.

Б. Белая куропатка, сайгак, северный олень, хомяк.

В. Белая куропатка, сайгак, северный олень, лемминг. ✓

Г. Полярная сова, сайгак, северный олень, хомяк.

16. Определите, какое звено в модели цепи питания пропущено

СТЕПНЫЕ ЗЛАКИ

СУСЛИК

?



А.




Б.



В.

17. Установите соответствия



А.



Б.



В.



Г.



Д.

1. ЛЕС


2. ТУНДРА

3. СТЕПЬ

4. ПУСТЫНЯ

5. АРКТИЧЕСКАЯ
ПУСТЫНЯ

18. Выберите, каких домашних животных разводят в пустынях и полупустынях




А.



Б.



В.



Г.

А Б

А Г

А В

Б В

19. Выберите, какой заповедник находится в зоне арктических пустынь



20. Выберите, какой заповедник создан для сохранения полупустынь и пустынь



21. Узнайте птицу по описанию



22. Узнайте животное по описанию



23. Узнайте животное по описанию



24. Отметьте признак приспособленности ковыля к условиям жизни в степи

А. Цветёт весной, до наступления летней жары

Б. Имеет очень узкие листья, которые испаряют мало влаги.

В. Запасает влагу в толстых, мясистых листьях.



25. Определите, какое звено в модели цепи питания пропущено



А. ЛОСЬ

Б. БУРУНДУК



Г. БЕЛКА

Использованная литература

- Демидова М. Ю. Готовимся к Всероссийской проверочной работе. Окружающий мир. Рабочая тетрадь. 4 класс. М.: Просвещение, 2016.
- Плешаков А. А. Окружающий мир. Тесты. 4 класс. Пособие для общеобразоват. учреждений.– М.: Просвещение, 2013.

Интернет ресурсы

- note.taable.com
- prikoli.smigid.ru
- imgplusdb.com
- mimege.ru
- www.apus.ru
- kladraz.ru
- 7law.info
- parkzakamsk.ru
- vk.com
- all-pix.com